

1

Halla el dominio de definición de estas funciones:

a) $y = \frac{2}{5x - x^2}$

$Dom f = \mathbb{R} - \{x : 5x - x^2 = 0\}$

$Dom f = \mathbb{R} - \{0, 5\}$

b) $y = \sqrt{x^2 - 4x - 5}$

$Dom f = \{x \in \mathbb{R} : x^2 - 4x - 5 \geq 0\}$

$Dom f = (-\infty, -1] \cup [5, \infty)$

2

Dadas las siguientes funciones:

$f(x) = \sqrt{3x - 2}$; $g(x) = x^2 - 5$, calcula:

a) $(g \circ f)(9)$

$(g \circ f)(x) = g(f(x))$

$g(f(x)) = (\sqrt{3x - 2})^2 - 5$

$g(f(x)) = 3x - 7$

$(g \circ f)(9) = 3 \cdot 9 - 7 = \boxed{20}$

b) $f^{-1}(4)$

$y = \sqrt{3x - 2}$

$(x)^2 = (\sqrt{3y - 2})^2$

$x^2 = 3y - 2$

$f^{-1}(x) = \frac{x^2 + 2}{3}$

$f^{-1}(4) = \boxed{6}$

3

Un cultivo de bacterias crece según la función

$y = 2^{\frac{x}{5}} + 2$ (y: miles de bacterias, x: horas)

- a) ¿Cuántas había en el momento inicial?
- b) ¿Cuánto tardarán en duplicarse?
- c) ¿Cuál será su número si pasa un día.

a) $f(0) = 2^{\frac{0}{5}} + 2 = 1 + 2 = 3 \rightarrow (3.000 \text{ bacterias})$

b) El doble son 6.000 $\rightarrow y = 6$

$6 = 2^{\frac{x}{5}} + 2$; $4 = 2^{\frac{x}{5}}$; $2^2 = 2^{\frac{x}{5}}$

$2 = \frac{x}{5}$; $x = 10 \rightarrow (10 \text{ horas})$

c) $f(24) = 2^{\frac{24}{5}} + 2 = 29,857 \rightarrow (29.857 \text{ bacterias})$

4

Una llamada de cinco minutos a un 902 me ha costado 2,65€ y por 15 minutos pagué 7,65€.

- a) Representa la función *tiempo-gasto* y busca su expresión analítica
- b) Calcula el precio de una llamada de 9 minutos

x	y
5	2.65
...	...
15	7.65

$m = \frac{7.65 - 2.65}{15 - 5} = \frac{5}{10} = \frac{1}{2}$

$y = \frac{1}{2}(x - 5) + 2.65$

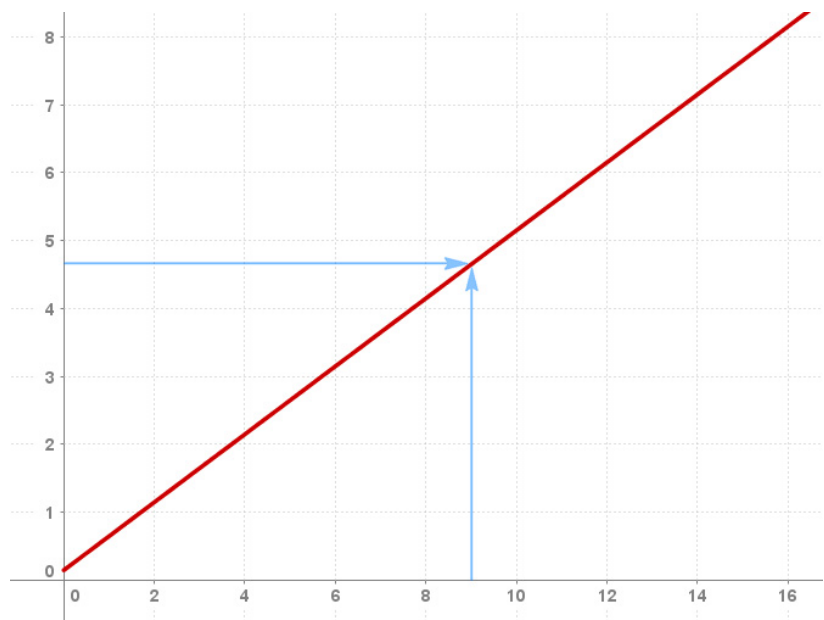
$y = 0.5x + 0.15$

interpolar:

$f(9) = 0.5 \cdot 9 + 0.15$

$f(9) = 4.65$

9 min \rightarrow 4.65€



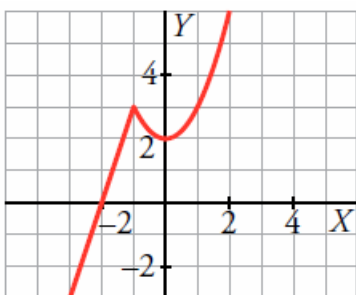
5

Completa la tabla:

	$y = \text{sen}(x)$	$y = \text{cos}(x)$	$y = \text{tg}(x)$
Periodicidad	2π	2π	π
Domínio	\mathbb{R}	\mathbb{R}	$\mathbb{R} - \left\{x : \frac{\pi}{2} + \pi k\right\}$
Recorrido	$[-1, 1]$	$[-1, 1]$	\mathbb{R}
Simetría	Respecto del origen	Respecto del eje Y	Respecto del origen
Asíntotas	No tiene	No tiene	$x = \frac{\pi}{2} + \pi k$
Intersección eje X	πk	$x = \left\{\frac{\pi}{2} + \pi k\right\}$	πk

6

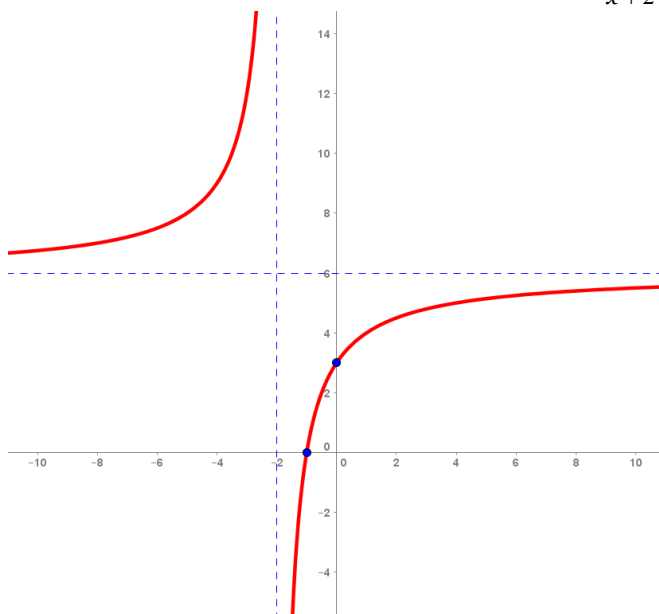
a) Obtén la expresión analítica de esta función:



$$f(x) = \begin{cases} 3x + 6 & \text{si } x \leq -1 \\ x^2 + 2 & \text{si } x > -1 \end{cases}$$

si $x \leq -1$, recta que pasa por $(-2, 0)$ y $(-1, 3)$

si $x > -1$, parábola que pasa por $(0, 2)$, $(1, 3)$,...

b) Representa gráficamente la siguiente función: $y = \frac{6x+6}{x+2}$ 

x	y
-8,0	7,0
-7,0	7,2
-6,0	7,5
-5,0	8,0
-4,0	9,0
-3,0	12,0
-2,0	Error
-1,0	0
0	3,0
1,0	4,0
2,0	4,5
3,0	4,8
4,0	5,0
5,0	5,1429
6,0	5,25
7,0	5,3333
8,0	5,4

AV: $x = -2$; AH: $y = 6$; Gráfica: Hipérbola
Creciente en todo su dominio

7

Asocia a cada gráfica su expresión analítica. Colócalas en el grupo al que pertenecen.

- | | | | |
|-----------------------|--------------------------|---------------------------|-------------------------------------|
| (A) $y = \ln x$ | (F) $y = 2^{1-x}$ | (K) $y = e^x$ | (P) $y = \frac{1}{2} - \frac{x}{3}$ |
| (B) $y = -\log_2 x$ | (G) $y = -(1/2)^x$ | (L) $y = \log_2(x+3)$ | (Q) $y = 3x+6 $ |
| (C) $y = -0,5x^2 + 3$ | (H) $y = -\sqrt{-x}$ | (M) $y = 3x^2 + 5x - 1$ | (R) $y = 2\sqrt{4-x}$ |
| (D) $y = \cos 2x$ | (I) $y = -\text{sen } x$ | (N) $y = \frac{1}{x} + 2$ | (S) $y = \frac{2}{x}$ |
| (E) $y = \sqrt{x+2}$ | (J) $y = 4-x $ | (O) $y = 2\text{sen } x$ | (T) $y = 1 + \cos x$ |

Lineales	P
Cuadráticas:	C, M
Proporcionalidad inversa	N, S
Radicales	E, H, R
Definidas por intervalos	J, Q
Logarítmicas	A, B, L
Exponenciales	F, G, K
Trigonómicas	D, I, O, T

